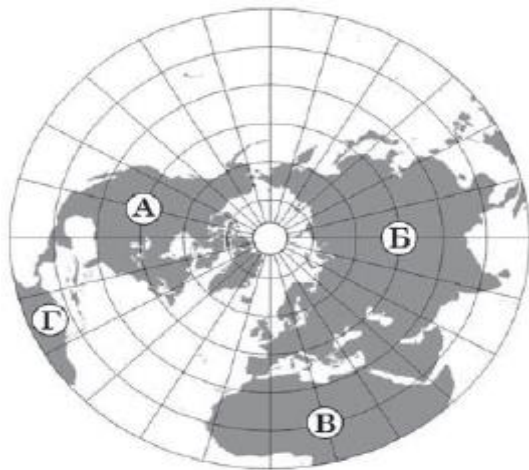


# Орієнтовні завдання для річного оцінювання знань учнів-екстернів

## з географії

(рівень повної загальної середньої освіти)

1. Укажіть материк, на якому лежить Україна.



Позначте відповіді:

А    Б    В    Г

2. Визначте тип лісового ландшафту за уривком із художнього твору: *«Старезний, густий ліс... Посеред лісу простора галява з плакучою березою та з великим прастарим дубом. Галява скраю переходить у куп'я та очерети, а в одному місці в яро-зелену драговину...».*

- А. широколисті ліси помірного поясу
- Б. хвойні ліси помірних широт (тайга)
- В. вічнозелені твердолисті ліси й чагарники
- Г. вологі вічнозелені ліси (сельва)

3. З будь-якої точки Світового океану можна дістатися в будь-яку іншу, не перетнувши суходіл. Це доводить, що Світовий океан –

- А. найбільша водойма суходолу
- Б. неперервний водний простір
- В. незаймана людиною акваторія
- Г. межа літосфери й гідросфери

4. Якою буквою на картосхемі позначено Український щит?



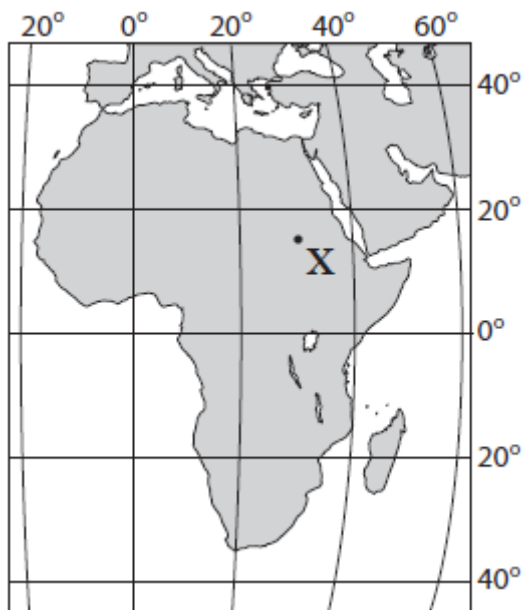
Позначте відповіді:

А Б В Г

**5. У міжнародному поділі праці Україна має конкурентні переваги на ринках**

- А. сировини нафти
- Б. міді, алюмінію
- В. чавуну, сталі
- Г. електроенергії

**6. Визначте географічні координати точки Х.**



- А. 30° пн. ш., 15° зх. д.
- Б. 30° пд. ш., 15° сх. д.
- В. 15° пн. ш., 30° сх. д.
- Г. 15° пд. ш., 30° зх. д.

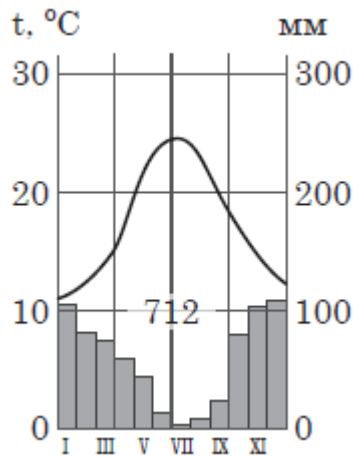
**7. Яка з глобальних цілей, проголошених Порядком денним у сфері сталого розвитку на період до 2030 року, є екологічною?**

- А. зменшення нерівності між країнами
- Б. забезпечення якісної освіти
- В. боротьба зі зміною клімату
- Г. подолання бідності в усіх її формах

**8. Укажіть процес, що зумовив формування гірської системи Анд.**

- А. зіткнення Південноамериканської літосферної плити та плити Наска
- Б. утворення олов'яного рудного поясу на заході Південної Америки
- В. метаморфізація гірських порід Південноамериканської платформи
- Г. активна вулканічна діяльність у Центральній і Південній Америці

**9. Проаналізуйте кліматограму, на якій відображено характеристики клімату столиці африканської країни. У якому кліматичному поясі розташоване це місто?**



- А. екваторіальному
- Б. тропічному Південної півкулі
- В. субтропічному Північної півкулі
- Г. субекваторіальному Північної півкулі

**10. В Австралії поверхневий стік найменший із-поміж усіх материків: лише 10-13 % атмосферних опадів потрапляє в річки та інші водойми. Що спричинило таке співвідношення опадів і поверхневого стоку?**

- А. вихід на поверхню кристалічних порід фундаменту платформи
- Б. розташування в середній частині материка основного вододілу
- В. сезонний характер живлення річок то підземними водами, то опадами
- Г. високе випаровування і поглинання вод гірськими породами

**11. Велика різниця температури й тиску між північними холодними й тропічними теплими повітряними масами спричиняє утворення в Північній Америці сильних вітрів – торнадо. Що могло б перешкоджати виникненню цих вітрів в «алеї торнадо», позначеній на рисунку штрихуванням?**



- А. інтенсивніше фізичне вивітрювання
- Б. широтне простягання гірських хребтів
- В. зміщення прерій у зону напівпустель
- Г. формування ширших річкових долин

**12. На фізичній карті України помітна така закономірність: майже всі височини й низовини, а також долини найбільших річок витягнуті з північного заходу на південний схід. Цю закономірність зумовлено**

- А. особливостями поширення лесу
- Б. тектонічною будовою території
- В. розподілом сонячної радіації
- Г. широтною зональністю ландшафтів

**13. Якщо озеро міліє і заростає, то згодом**

- А. утвориться болото із шаром торфу
- Б. сформується артезіанський басейн
- В. зміститься межа кліматичного поясу
- Г. виникне горбиста височинна ділянка

**14. За наведеною в таблиці інформацією визначте загальну динаміку змін у співвідношенні міського й сільського населення в Україні за 60 років.**

Роки	1958	1968	1978	1988	1998	2008	2018
Міське населення, %	45,7	54,3	60,8	66,7	66,9	68,5	69,3
Сільське населення, %	54,3	45,7	39,2	33,3	33,1	31,5	30,7

- А. урбанізація пришвидшувалася, обсяг внутрішніх міграцій – зменшувався
- Б. площа міських і сільських населених пунктів істотно не змінювалася
- В. рівень урбанізації досягнув високих показників, а її темп уповільнювався
- Г. кількість міських жителів стрімко зростала, сільських – зменшувалася.

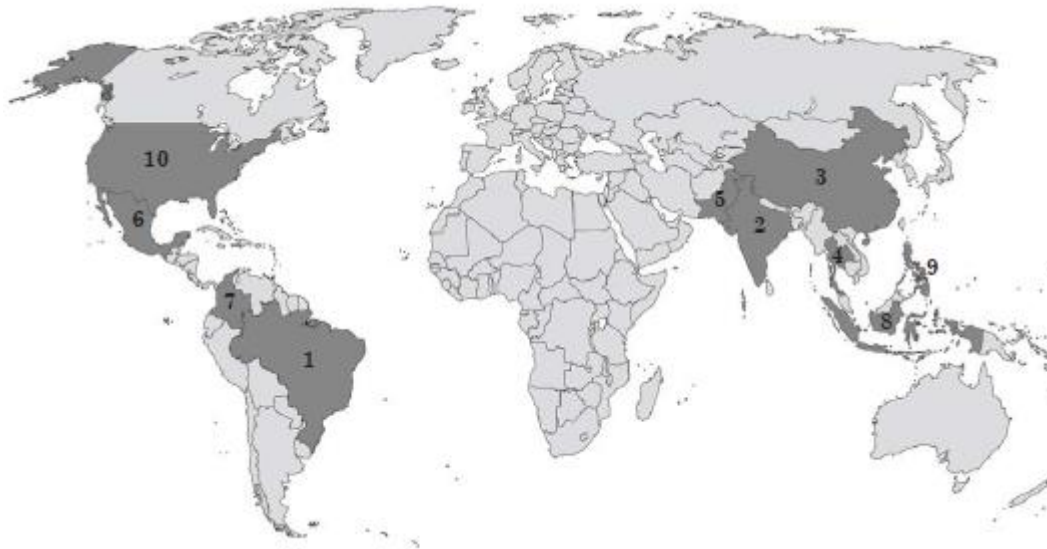
**15. Подруги роз'їхалися із села на Поліссі в різні регіони України. Установіть за враженням від нового місця проживання нинішню адресу однієї з них: «Живу в географічному центрі України! Нарешті маю глибокий, сухий погріб...».**

- А. Луганська область, смт Біловодськ
- Б. Івано-Франківська область, смт Верховина
- В. Чернігівська область, смт Замглай
- Г. Кіровоградська область, смт Добровеличківка

**16. У чому полягає подібність природи Українських Карпат і Кримських гір?**

- А. шпилясті гірські вершини висотою понад 2 500 м
- Б. великі родовища руд магматичного походження
- В. висотна поясність ландшафтів на схилах гір
- Г. густа мережа річок із льодовиковим живленням

**17. Укажіть сільськогосподарську культуру, країни-лідери за обсягом вирощування якої позначено темним кольором на картосхемі.**




- А. соняшник
- Б. цукровий буряк
- В. льон-довгунець
- Г. цукрова тростина

**18. Якщо вранці сонце світить у заднє скло автомобіля, а тінь падає попереду, то водій прямує з**

- А. Тернополя до Чернівців
- Б. Житомира до Києва
- В. Києва до Одеси
- Г. Полтави до Києва

**19. Функціонування яких електростанцій зумовлює лідерство трьох областей (див. діаграму) за часткою (%) виробленої електроенергії в Україні (2019 р.)?**



- А. сонячних і вітрових
- Б. гідравлічних
- В. теплових
- Г. атомних

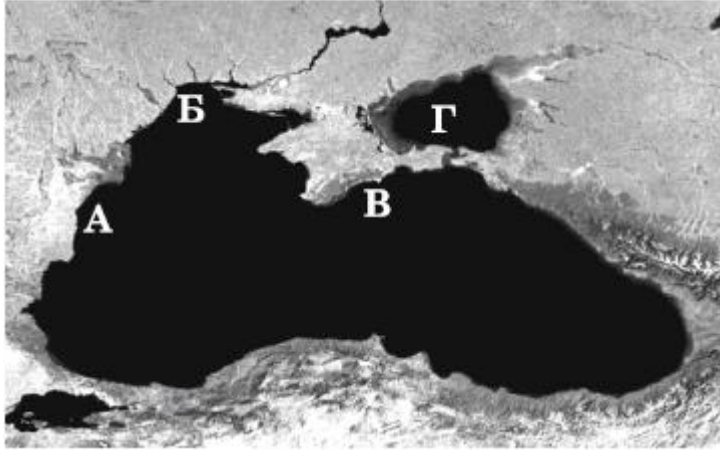
**20. Відлік часових поясів здійснюють від**

- А. екватора
- Б. меридіана 180° довготи
- В. нульового меридіана
- Г. Північного полюса

21. У якому субрегіоні всі країни відносять до високорозвинених?

- А. Західна Європа
- Б. Східна Європа
- В. Південна Азія
- Г. Північна Африка

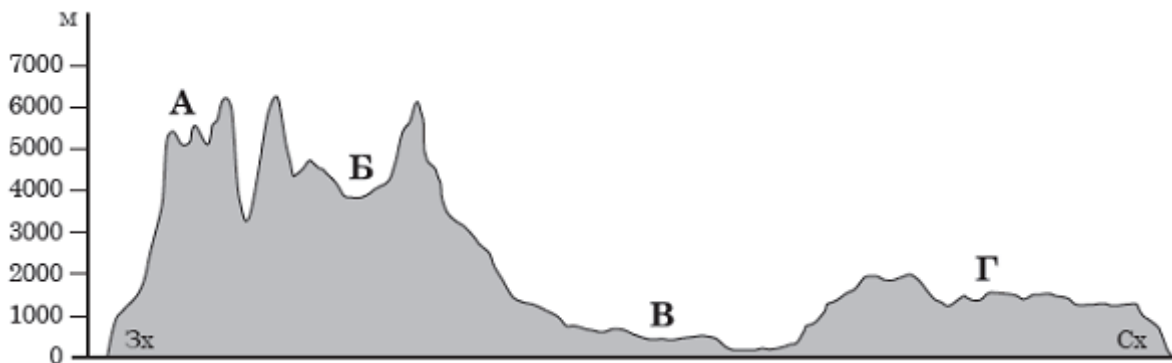
22. Якою буквою позначено акваторію Азовського моря на космічному знімку?



Позначте відповіді:

А Б В Г

23. На профілі поверхні території Південної Америки, побудованому вздовж паралелі 20°, визначте місцезположення Бразильського плоскогір'я.



Позначте відповіді:

А Б В Г

24. Укажіть сегмент світового ринку товарів і послуг, на якому суб'єкти економіки України є експортерами, а Сполучених Штатів Америки – імпортерами.

- А. промислове обладнання
- Б. скраплений природний газ
- В. програмне забезпечення
- Г. освітні послуги

25. Увідповідніть характеристику об'єкта політичної карти Європи з його назвою.

- А. федеративна республіка, країна «Великої сімки», член Євросоюзу й НАТО

- Б. конституційна монархія унітарного устрою, член НАТО
- В. унітарна президентська республіка, країна з перехідною економікою, член СНД
- Г. залежна територія під урядуванням Великої Британії

- 1. Норвегія
- 2. Білорусь
- 3. Німеччина
- 5. Швейцарія
- 6. Гібралтар

Ваша

відповідь: \_\_\_\_\_

---

---

**26. До кожної характерної ознаки економіки Японії доберіть приклад, який ілюструє особливість її прояву.**

- А. серед 500 найбільших транснаціональних корпорацій світу є японські
- Б. експорт капіталу – домінуюча форма зовнішньоекономічної діяльності
- В. державні дотації рисовим фермам для підтримання виробництва в господарствах площею до 1 га
- Г. Тихоокеанський промисловий пояс – це 25 % площі країни й понад 75 % виробленої промислової продукції
- Д. зосередження металургійних, хімічних, нафтопереробних виробництв у портово-промислових комплексах

- 1. постіндустріальна структура економіки
- 2. збереження традиційних виробництв первинного сектору
- 3. залежність виробництв вторинного сектору від імпорту сировини
- 4. істотні внутрішні відмінності в розміщенні виробництв

Ваша відповідь:

---

---

---

**27. Визначте подібність географічного положення України й Німеччини.**

- 1. обидві країни відносять до одного субрегіону Європи
- 2. усі точки в межах країн мають північну широту й східну довготу
- 3. їхні узбережжя омивають води морів Атлантичного океану
- 4. території країн лежать у межах однієї природної зони
- 5. територією проходять міжнародні транспортні коридори
- 6. усі їхні країни-сусіди є членами Європейського Союзу
- 7. є державами напівпериферії (у моделі «центр – периферія»)

Впишіть

цифри: \_\_\_\_\_

**28. Проаналізуйте статистичну інформацію щодо населення однієї з країн.**

**Відомо, що частка людей, вік яких перевищив 65 років, збільшилася за останні двадцять років удвічі. Що спричинило «старіння населення» у цій країні?**

	2000 р.	2020 р.
Кількість населення, млн осіб	16	18
Народжуваність, ‰	13	10
Смертність, ‰	10	9
Середня тривалість життя, років	77	79
Рівень урбанізації, %	74	75
Середня густина населення, осіб/км <sup>2</sup>	89	90
Сальдо міграцій, %	0,2	0,2

1. збільшення чисельності населення
2. зменшення народжуваності
3. зменшення смертності
4. збільшення середньої тривалості життя
5. зростання рівня урбанізації
6. збільшення середньої густоти населення
7. перевищення імміграції над еміграцією

Впишіть три правильні відповіді:

---

**29. За якими критеріями можна визначити, що на картосхемі значками відображено розташування підприємств цукрової промисловості?**



1. виробництво рівномірно розміщено в регіонах України
2. заводи зосереджено в районах із найбільшою густиною населення
3. виробництво сконцентровано в сільськогосподарській зоні Лісостепу
4. заводи розташовано в обласних центрах із надлишком робочої сили
5. виробництво тяжіє до міжнародних транспортних коридорів
6. найбільше підприємств – у Вінницькій і Полтавській областях
7. немає заводів у Карпатському регіоні, у зонах Полісся і Степу

Впишіть три правильні відповіді:

---



**30. Визначте основні тенденції просторової організації авіаракетокосмічного машинобудування на сучасному етапі.**

1. концентрування виробництв у групі високорозвинених країн
2. відновлення позицій на світовому ринку окремих країн із перехідною економікою
3. зміщення основних виробництв у країни, що розвиваються
4. домінування на світовому ринку Європейського регіону
5. розвиток окремих виробництв у нових індустріальних країнах Америки й Азії
6. розбудова спеціалізованих технополісів у Західній і Центральній Азії
7. стрімке нарощування виробничого потенціалу в Китаї

Впишіть три правильні відповіді:

---

**31. Які чинники зумовлюють участь країн Мікронезії, Полінезії, Меланезії в міжнародному поділі праці?**

1. віддаленість країн від материків й одна від одної
2. перебування під політичним контролем Австралії
3. можливості освоєння ресурсів океану
4. обмежені ресурси мінеральної сировини й палива
5. надлишок кваліфікованої робочої сили
6. політика реіндустріалізації урядів більшості країн
7. розташування світових фінансових центрів

**32. Про різючі контрасти якої країни йдеться в уривку: «...Одні громадяни цієї країни роблять пересадки серця, будують атомні електростанції; інші й гадки не мають, що існує колесо, писемність, і добувають вогонь тертям дерев'яних паличок. Одні купують дорогі лімузини, а інші за безцінь їх миють. Одні тяжко працюють на будівництві палаців на березі океану, інші – живуть у них...»?**

- А. Німеччини
- Б. Італії
- В. Бразилії
- Г. Білорусі

**33. Обсяг виробництва товарів і послуг у Китаї більший, ніж у Японії, проте Японію відносять до групи високорозвинених країн, а Китай – ні. Який показник соціально-економічного розвитку потрібно передусім збільшити Китаю, щоб увійти в цю групу країн?**

- А. співвідношення економічно активного населення і безробітних
- Б. валовий внутрішній продукт у розрахунку на одного жителя країни
- В. частку первинного сектора в структурі промислового виробництва
- Г. забезпеченість освітніми послугами дітей дошкільного й шкільного віку

**34. Увідповідніть прислів'я з типом клімату, який воно описує.**

1. Зроби мені добро в сезон дощів – і я віддячу тобі в сезон посухи.

2. Дощовий рік не скінчиться повік.
3. Літо не буває без дощу, зима – без морозу.
4. Чим заметілі в тундрі лютіші, тим куріпці в снігу затишніше.

- А. екваторіальний
- Б. антарктичний
- В. субарктичний
- Г. помірно континентальний
- Д. субекваторіальний

Впишіть правильні відповіді:

---

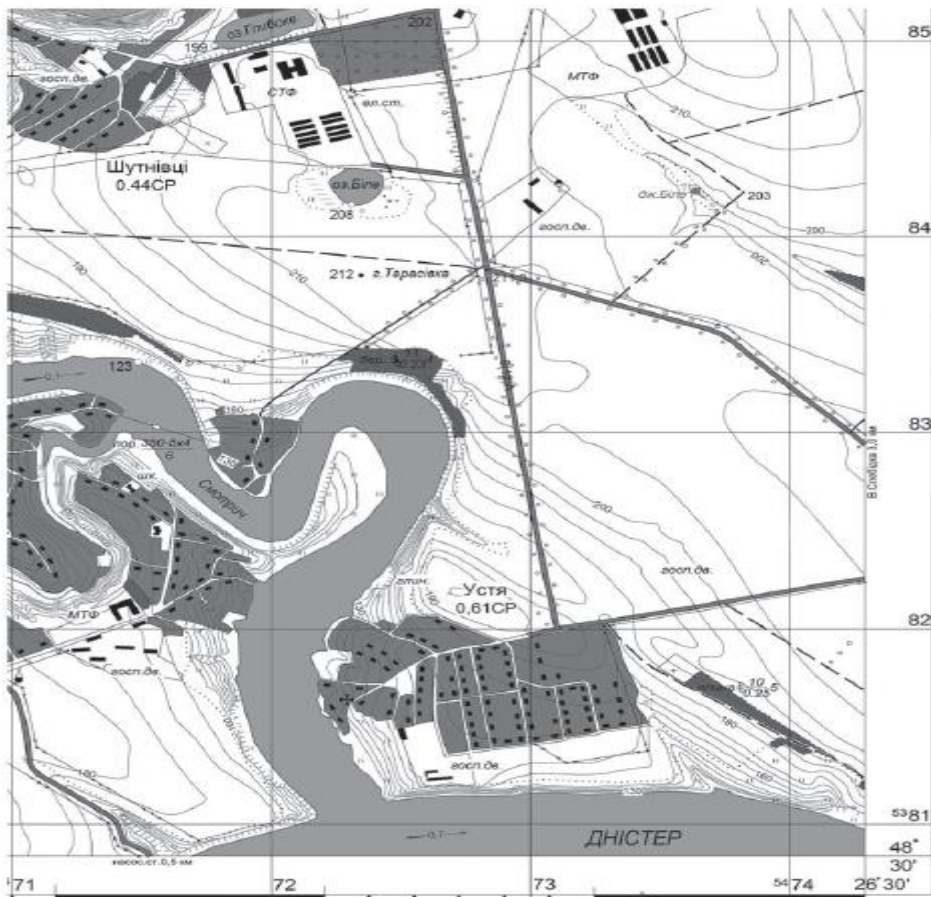
**35. Для кожного виду економічної діяльності визначте проблему, яка зменшує потенційні можливості його розвитку в Україні на сучасному етапі.**

1. виробництво високотехнологічного промислового обладнання
  2. перероблення нафти
  3. вирощування технічних культур
  4. будівництво житла (квартир)
- А. виснаження легкодоступних родовищ, рудних ресурсів
  - Б. значна залежність від імпорту сировини
  - В. сезонний характер виробництва
  - Г. недостатній розвиток інноваційної інфраструктури (технопарків)
  - Д. сповільнене зростання купівельної спроможності населення

Впишіть правильні відповіді:

---

**36. У якому квадраті кілометрової сітки лежить озеро Біле?**



Масштаб 1 : 25 000  
Суцільні горизонталі проведено через 5 м

Ваша відповідь: \_\_\_\_\_

**37. Чому на річках, які протікають у північній частині України, повинь навесні триваліша, ніж в інших регіонах країни?**

1. усі річки належать до одного басейну
2. річки мають незначний похил
3. у річищах часто трапляються пороги
4. у басейнах річок поширені болота
5. швидкість течії на окремих ділянках річищ різна
6. на півночі країни повільніше таниє сніг, більше дощів
7. на заплавах облаштовано сінокоси й пасовища

**38. Порівняйте місце Німеччини та України в міжнародному поділі праці. Укажіть види діяльності, для розвитку яких в Україні доцільно використовувати досвід Німеччини.**

1. освоєння родовищ сланцевого газу в екстремальних природних умовах
2. будівництво потужних гідравлічних припливних електростанцій
3. участь у міжнародних проектах з виробництва літаків, ракетної техніки
4. закриття збиткових шахт, реіндустріалізація районів видобування вугілля
5. розвиток інфраструктури ділового та екскурсійного туризму
6. переведення тваринництва на екстенсивний шлях розвитку
7. будівництво житла в умовах високої сейсмічності

**39. У селищі міського типу діє підприємство з виробництва сільськогосподарської техніки й комплектуючих до неї. Який чинник обмежуватиме можливість значного збільшення виробничих потужностей на цьому підприємстві?**

- А. агрокліматичні ресурси цієї місцевості
- Б. обсяги видобування руди в місцевому кар'єрі
- В. кількість трудових ресурсів у цьому селищі
- Г. відстань до найближчої електростанції

**40. Які характерні особливості антициклону спричиняють посилення смогу в містах із високим рівнем забруднення повітря, особливо влітку?**

- А. нисхідні потоки повітря, слабкий вітер або штиль
- Б. висока вологість повітря, захмарене небо, затяжний дощ
- В. низький атмосферний тиск, висока ймовірність опадів
- Г. велика добова амплітуда коливань температури повітря